


4 タイル

目標時間は5分

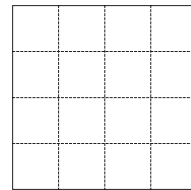
分 秒

Q てんせん しかっけい 点線の四角形を、お手本の形にあまりなく分けなさい。
てほん かたち お
む か
(向きは変わってもかまいません。)


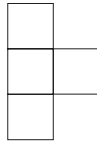
(1) (お手本)




(2) (お手本)




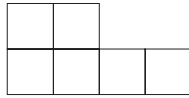
(3) (お手本)



(4) (お手本)



(5) (お手本)



(6) (お手本)

