

空間把握 中級

なまえ

3

かいてんず
回 転 図


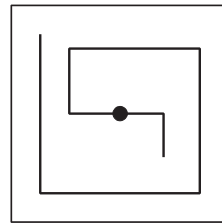

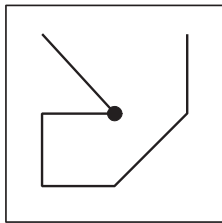
目標時間は5分

分 秒

Q ひだりすを、まなかの黒点のところにはりをさして、(1)と(3)は右に90度、(2)と(4)は180度回転させた図を、右の図にかきましょう。

(1) 右に90度回転

(2) 180度回転



(3) 右に90度回転

(4) 180度回転

