



since 1890

増進堂・受験研究社

すたぺンドリル
プロ講師が作る無料学習プリント

空間把握 中級

なまえ

2

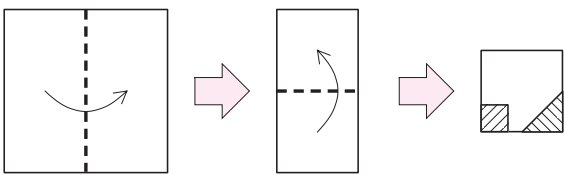
紙切り

目標時間は5分


分 秒

Q 正方形の紙を、図のように点線を折り目にして折りました。
 この紙から斜線の部分を切り落として、残った部分を広げると、どのような図形になりますか。答えのところに、切り落とした部分を斜線にしてかき入れなさい。

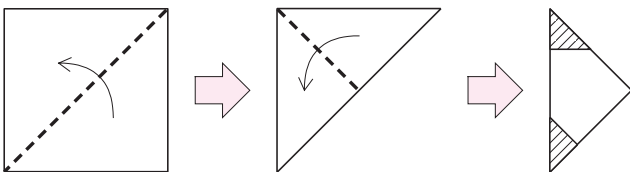
(1)




(答え)



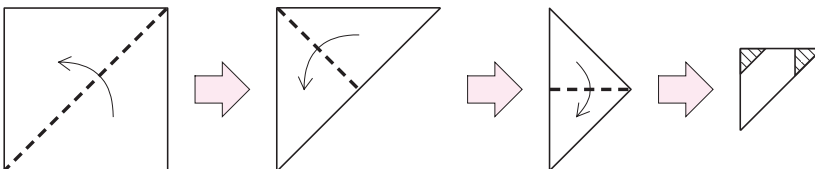
(2)




(答え)



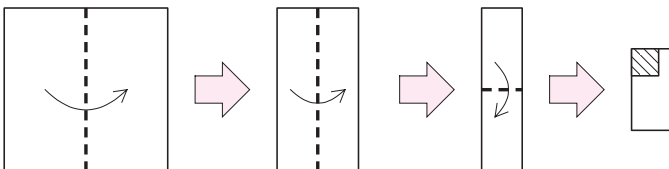
(3)




(答え)



(4)



(答え)



天才脳ドリル

賢い子には知識で測れないセンスがある!



くわしくは

