

空間把握 上級

なまえ

3


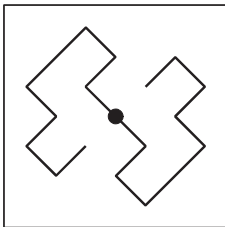
かいてんず
回 転 図

目標時間は5分


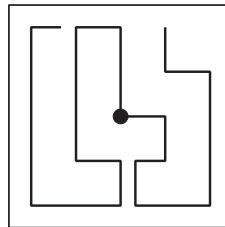
分 秒

Q ひだり す なか くるてん
左の図を、まん中の黒点のところにはりをさして、(1)と
(3) は右に90度、(2)と(4)は180度回転させた図を、
右の図にかきましょう。



(1) 右に90度回転



(2) 180度回転



(3) 右に90度回転



(4) 180度回転

