

空間把握 上級

なまえ

1

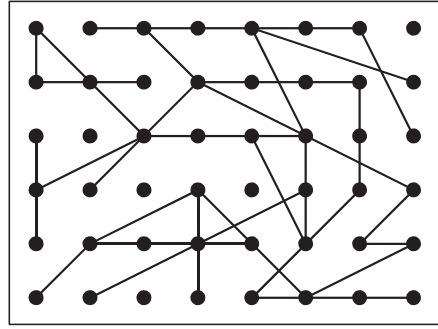

てん びょう しゃ
点 描 写

目標時間は1分30秒


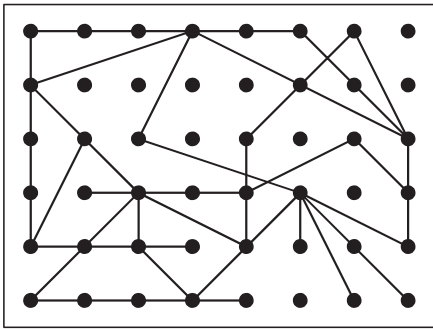
分 秒

Q ひだり す みぎ おな てん むす
左の図と右の図が同じになるように、点を結びなさい。

(1)



(2)



(3)

