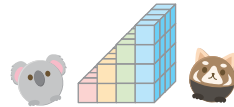




ビルディングパズル



が 月	に 日	名 前
--------	--------	--------

◇ 空から町を見ているよ。

それぞれのマスには、1階～指定の数までの階数のビルが建てられていて、矢印の数字は、その場所から見えているビルの数を表しているんだ。

4方向から見えている数をヒントに、全部のビルの階数を答えよう。

それぞれのタテ列、ヨコ列に同じ数字は入らないよ。

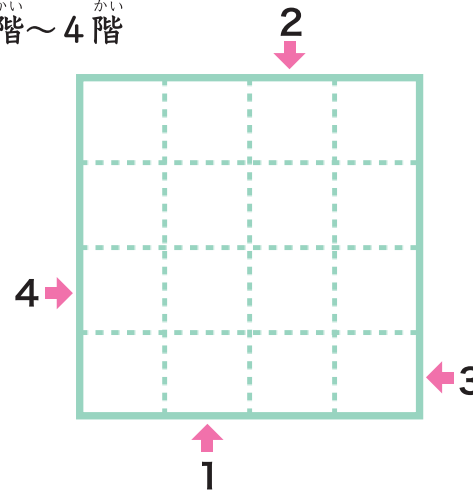
<例> 1階～4階

3	1		
1	2	4	3
2	1	3	4
4	3	2	1
3	4	1	2

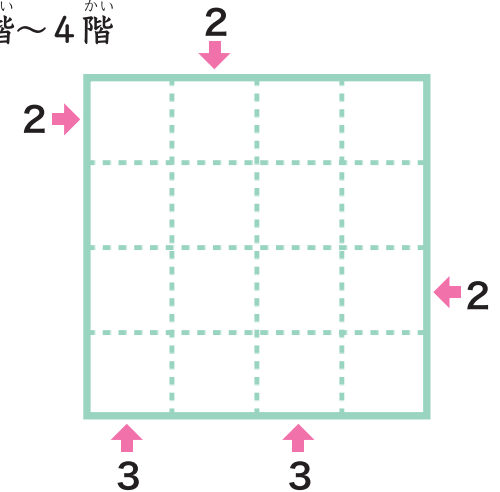
おくからの見え方
みぎ右
みぎ左
てまえ手前

1階、2階、3階、4階の4つのビルが見えているよ。
2階、4階の2つのビルが見えているよ。

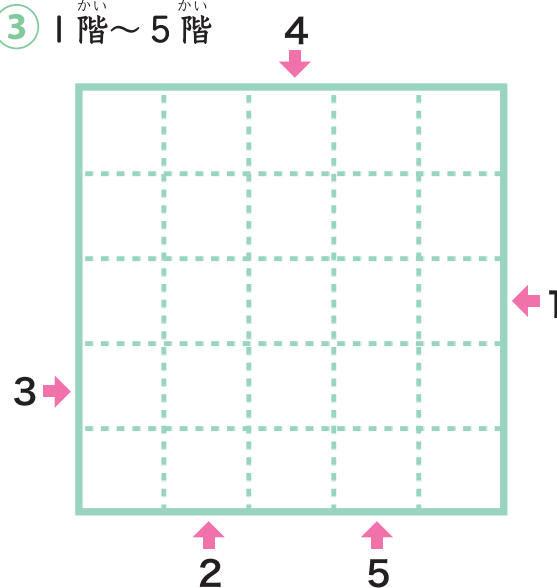
① 1階～4階



② 1階～4階



③ 1階～5階



④ 1階～5階

