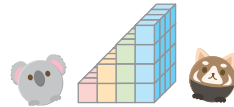




ビルディングパズル



名前		
前	名	まえ
に	ち	日
が	月	

◇ そら 空から町を見ているよ。

それぞれのマスには、かい 1階～しうじ 指定の数までの階数のビルが建っていて、やじろし 矢印の数字は、その場所から見えているビルの数を表しているんだ。

ほうこう 4方向から見えている数をヒントに、ぜんぶ 全部のビルの階数を答えよう。

それぞれのタテ列、ヨコ列に同じ数字は入らないよ。

<例> 1階～4階

おく

おくからの見え方

みかた

右からの見え方

1	2	4	3
2	1	3	4
4	3	2	1
3	4	1	2

みかた

左からの見え方

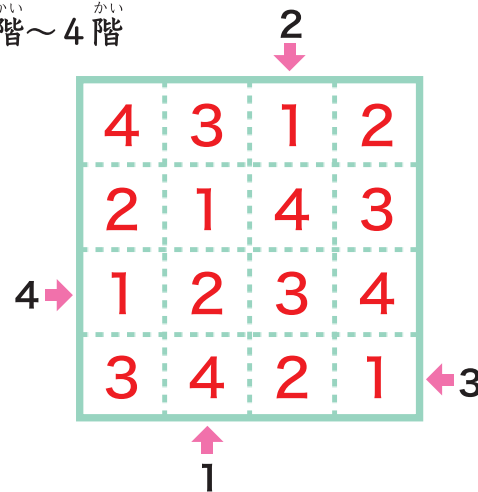
みかた

手前からの見え方

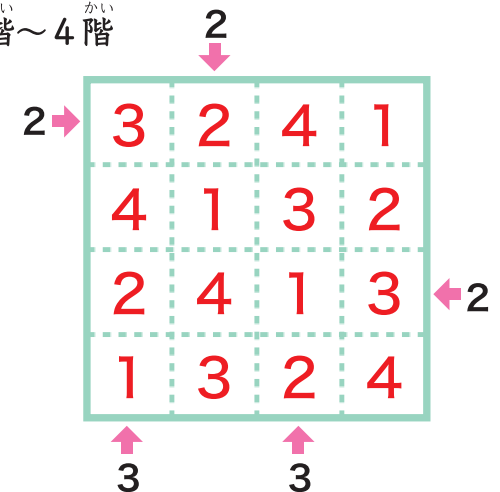
1階、2階、3階、4階の
4つのビルが見えているよ。

2階、4階の2つの
ビルが見えているよ。

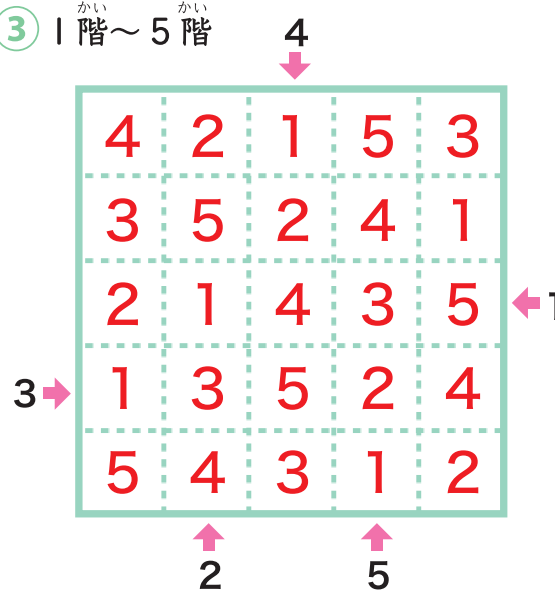
① 1階～4階



② 1階～4階



③ 1階～5階



④ 1階～5階

