



すたペンドリル 算数クイズ 3

【小学6年生】答え

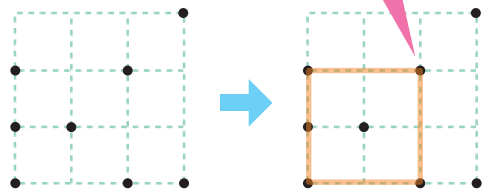
が 月	に 日	名 前
--------	--------	--------

ずけい さが 図形探し

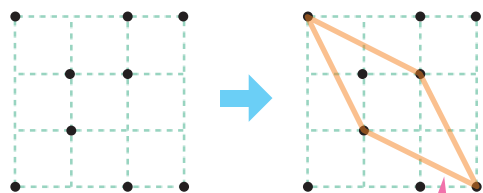
◇ まっすぐな線を引いて、頂点が「●」に来るよう、指定の形を探そう！
ただし、「●」の上を線が通過することもあるよ。

<例>

せいほうけい さが 正方形を探そう。

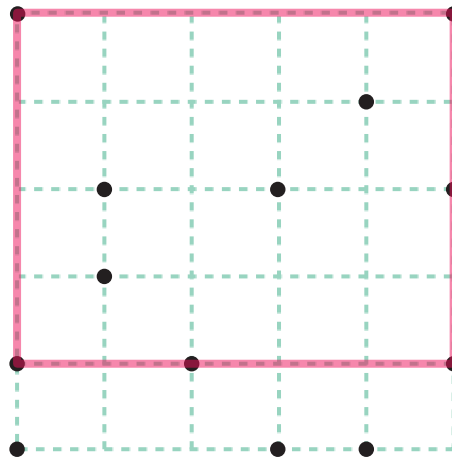


がた さが ひし形を探そう。

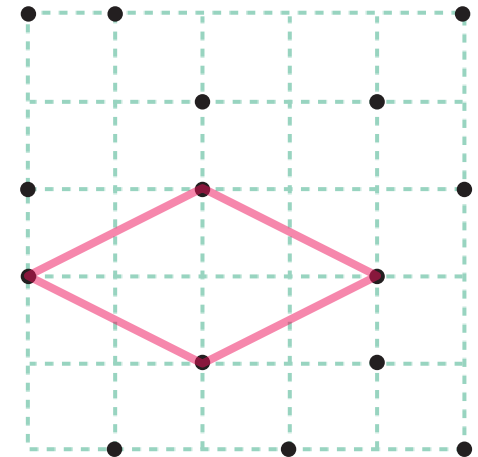


ずけい 図形がナナメになるときもあるんだ！

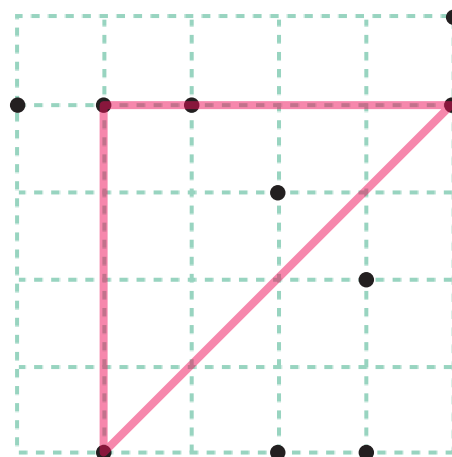
① ちょうほうけい さが 長方形を探そう。



② ひし形を探そう。



③ ちよっかくにとうへん さんかくけい さが 直角二等辺三角形を探そう。



④ せいほうけい さが 正方形を探そう。

