




# すたペンドリル 算数クイズ 1

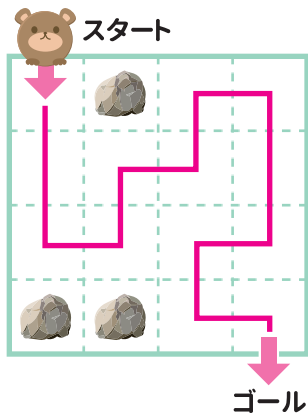
【小学5年生】

が つ 月	に ち 日	名 前 な ま まえ
-------------	-------------	------------------------


## 部屋の迷路

◇ 岩 (  ) のないマスすべて  
とお  
通って、スタートからゴールまで  
すす  
進む。  
すす  
進む方向はタテまたはヨコだけ  
すす  
で、ナナメには進めないよ。  
おな  
同じマスは2回以上通れないから  
ちゅうい  
注意してね。


<例>



①



②



③



④

