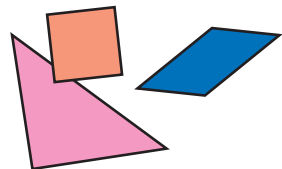



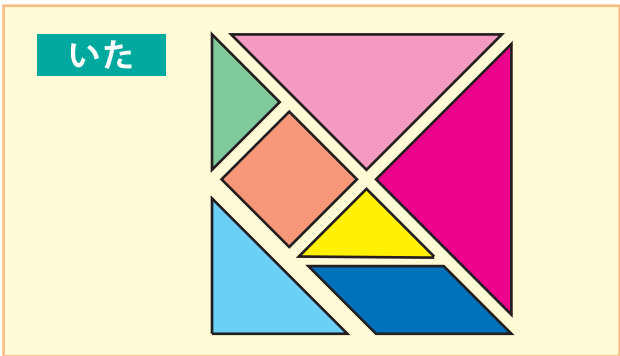


かたちパズル




がつ	にち	なまえ
----	----	-----

◇ みぎ 右のいたをいくつかならべて、
 ①～⑥のかたちをつくったよ。
 それぞれ、なんまいのいたがつかわれているかな？




① ねこ



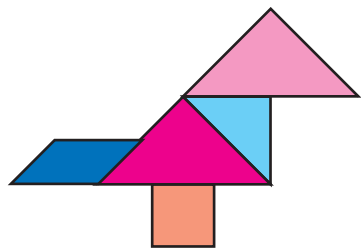
さんかくのいた
(5) まい
 しかくのいた
(2) まい

② いぬ



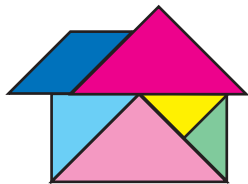
さんかくのいた
(4) まい
 しかくのいた
(2) まい

③ とり




さんかくのいた
(3) まい
 しかくのいた
(2) まい

④ いえ



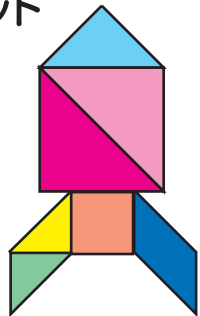
さんかくのいた
(5) まい
 しかくのいた
(1) まい

⑤ くじら



さんかくのいた
(4) まい
 しかくのいた
(2) まい

⑥ ロケット



さんかくのいた
(5) まい
 しかくのいた
(2) まい