



四角に切り分けよう

が 月	に 日	名 前
--------	--------	--------

◇ **点線に線を引いて、長方形または正方形に切り分けよう。**

1つの長方形または正方形の中には、必ず数字が1つだけ入るよ。

数字は、長方形または正方形にふくまれるマスの数を表しているんだ！

<例>

1×2=2(マス)

3×2=6(マス)

2×2=4(マス)

1×4=4(マス)

すうじ 数字「4」のマスを
ふく ちようほうけい
含む長方形なら…

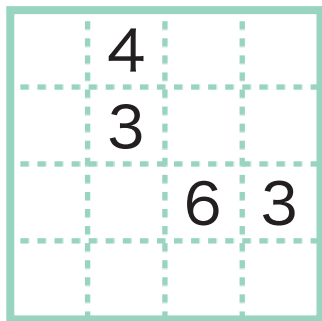
1×4=4(マス)

2×2=4(マス)

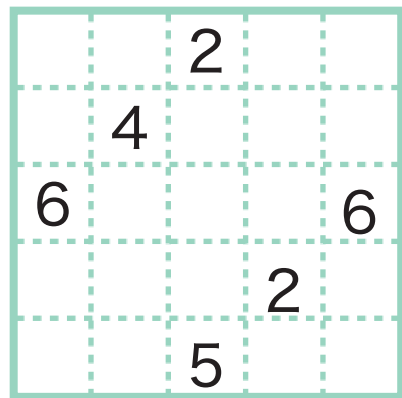
4×1=4(マス)

どれかになるよ！

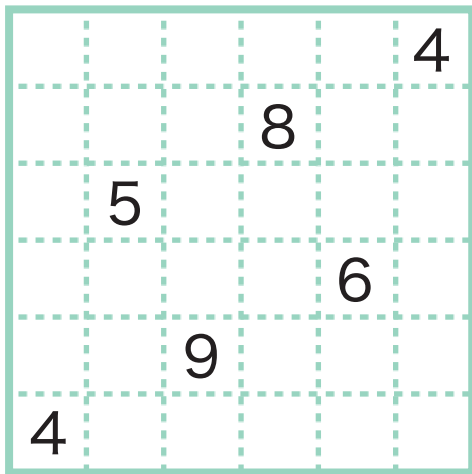
① ヒント：大きい数から考えてみよう。



② ヒント：「5」から考えてみよう。



③ ヒント：大きい数から考えてみよう。



④ ヒント：必ず5の長方形にふくまれるマスはどれかな？

