



# すたペンドリル 算数クイズ 4

【小学3年生】

## せん 線つなぎ

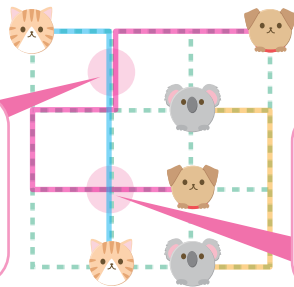
◇ おな どうぶつ それぞれ せん でつなごう。

せん は、点線の上しか通れないよ。

ほん いじょう せん おな てんせん とお  
2本以上の線が同じ点線を通ったり、  
まじ 交わったりしないようにしてね。



〈まちがいのれい〉

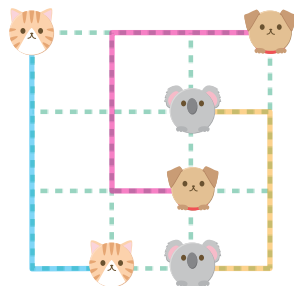


おな てんせん  
同じ点線を  
せん ほんとお  
線が2本通って  
いるのでダメ

まじ  
交わって  
いるので  
ダメ




ただ  
〈正しいれい〉




が つ 月	に ち 日	名 前 な まえ
-------------	-------------	-------------------


①



②



③



④

