

6

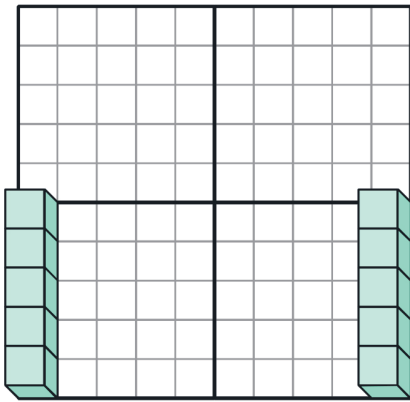
かず ごうせい ぶんかい
数の合成・分解 ③

じっくりとりくみ
ましょう

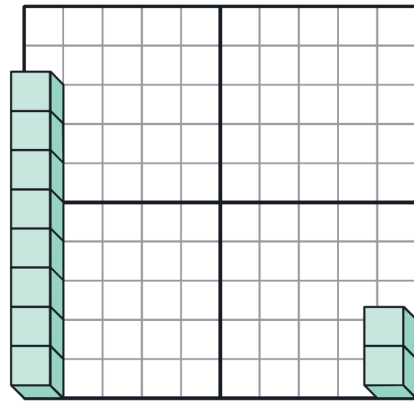
分 秒

Q つぎの2つの数を合わせるといくつになりますか。
ブロックを頭の中でイメージしながら、分解したり移動させたり合成したり（くっつけたり）して考えましょう。

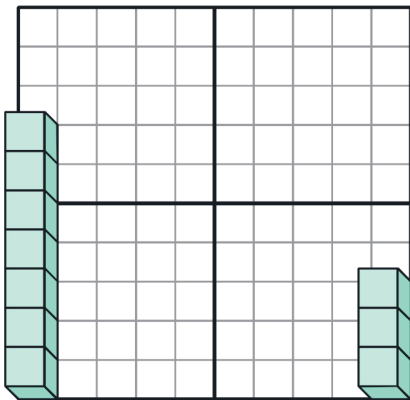
(1) 2つをたしたら 個



(2) 2つをたしたら 個



(3) 2つをたしたら 個



(4) 2つをたしたら 個

