

# 6

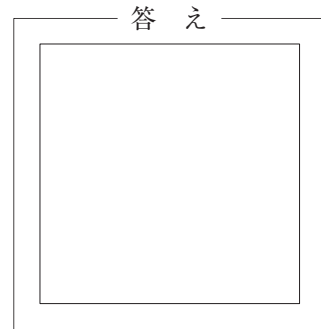
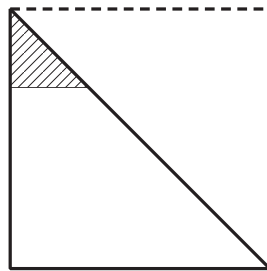
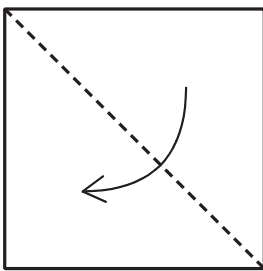
## さんかくお 三 角 折 り

目標時間は5分

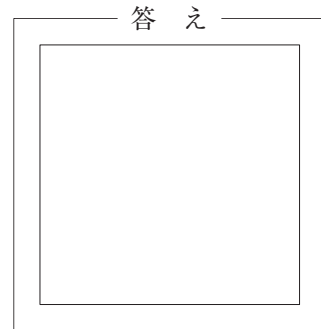
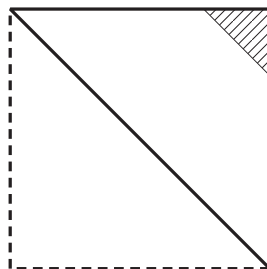
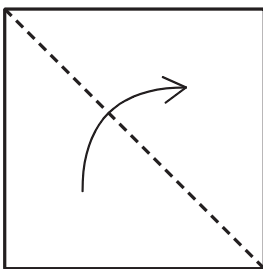
分 秒

**Q** 正方形の紙を、図のように点線を折り目にして折りました。  
この紙から斜線の部分を切り落として、残った部分を広げると、どのような図形になりますか。答えのところに、切り落とした部分を斜線にしてかき入れなさい。

(1)



(2)



(3)

