

5

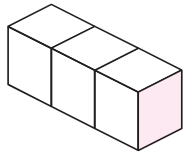
積み木

目標時間は5分

分 秒

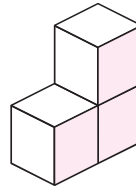
Q 積み木をならべます。それぞれ積み木は何個ありますか。
(複雑な形は、頭の中でかぞえやすい形に移動してからかぞえましょう。)

(1)



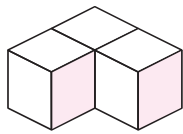
個

(2)



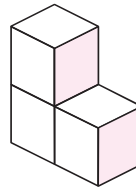
個

(3)



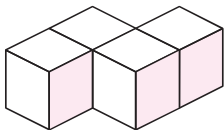
個

(4)



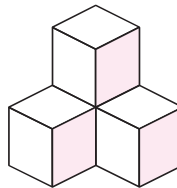
個

(5)



個

(6)



個

