

空間把握 初級

なまえ

3

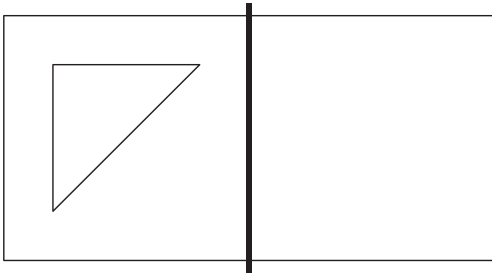
かがみ
鏡

目標時間は5分

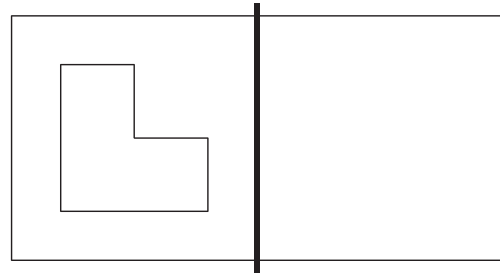
分 秒

Q ひだり す かがみ うつ かがち
左の図を鏡に写すと、どんな形になりますか。
なお、鏡は太線のふとせんお
ところに置きます。

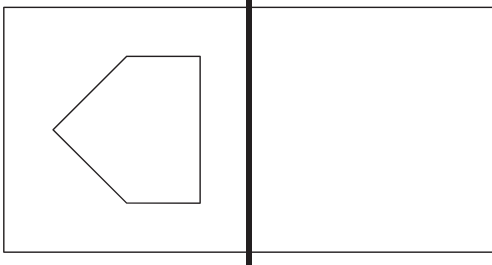
(1)



(2)



(3)



(4)

