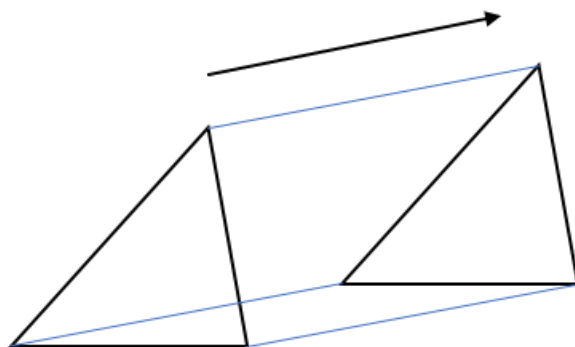
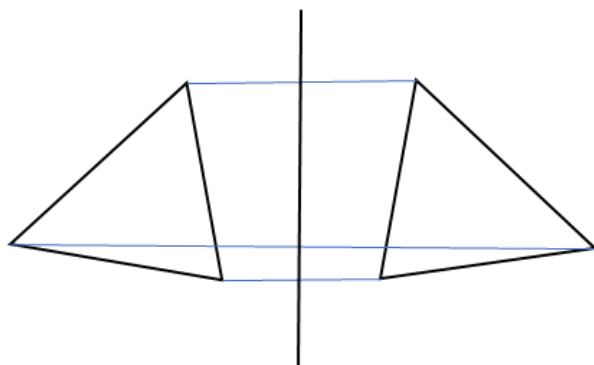


<ポイント> 図形の移動(1)

○平行移動とは、もとの図形を一定方向に、一定の長さだけ移動すること。

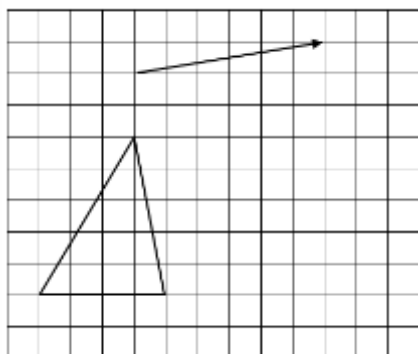


○対称移動とは、図形をある直線を折り目として折り返した状態で、図形を移動すること。



【1】以下の図において、(1)は矢印の方向と長さについて平行移動した図形、(2)は対称移動した図形を書きなさい。

(1)



(2)

