

ひにち

がつ

にち

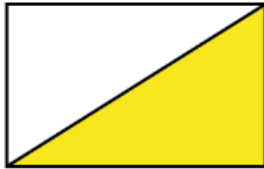
なまえ

◆ もとの 大きさの  $\frac{1}{2}$  になっているものは どれですか。

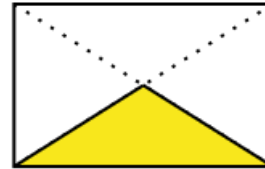
もとの 大きさ



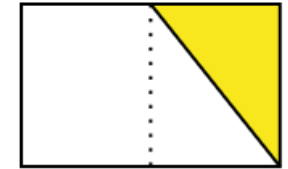
ア



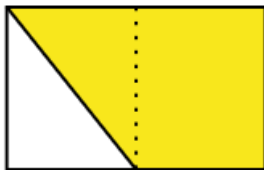
イ



ウ




エ



オ



カ



答え ( ア オ カ )

◆ 色をぬったところは もとの 大きさの 何分の一ですか。分数で 答えましょう。

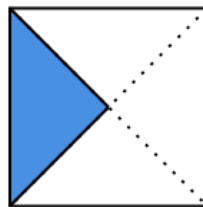
もとの 大きさ




①



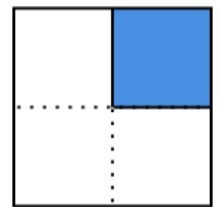
②



③



④



① (  $\frac{1}{2}$  )

② (  $\frac{1}{4}$  )

③ (  $\frac{1}{2}$  )

④ (  $\frac{1}{4}$  )