

小学5年生  
角柱と円柱の  
見取り図、展開図 (2)

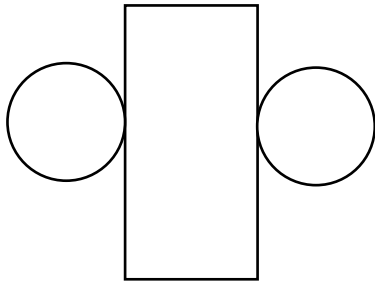
日にち

月

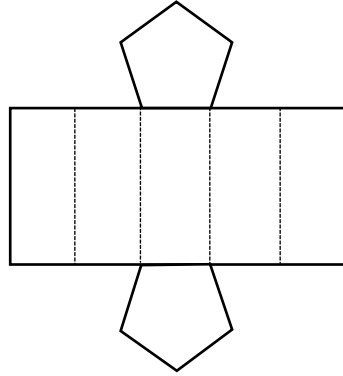
日

名前

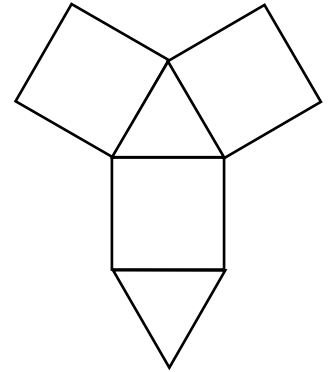
◆以下の展開図を見て、立体の名前を答えましょう。



( )



( )



( )

◆右の展開図を見て、次の問いに答えなさい。

(1) この立体の名前を答えなさい。

( )

(2) 辺の数、面の数、頂点の数を答えなさい。

(辺の数: ) (面の数: )

(頂点の数: )

(3) 底面の面積を求めなさい。

( )

(4) 側面の面積を求めなさい。

( )

(5) この立体の表面積を求めなさい。

( )

(6) 面アに平行な面はどれですか。答えなさい。

( )

(7) 面イに垂直な面はどれですか。答えなさい。

( )

