

どちらがながい？(4)

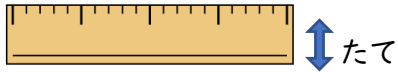
ひにち

がつ


にち

なまえ

◆つぎのじょうぎの たてとよこでは どちらがながいですか。


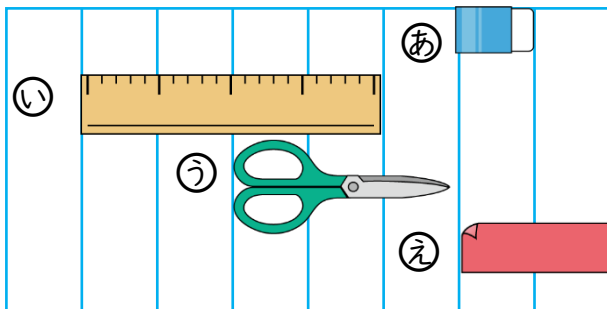


よこ



のほうが ながい。

◆ながいじゅんに ひだりからならべましょう。



◆ながいほうに○をつけましょう。

