

小学2年生

水のかさのたんい(2)

ひにち

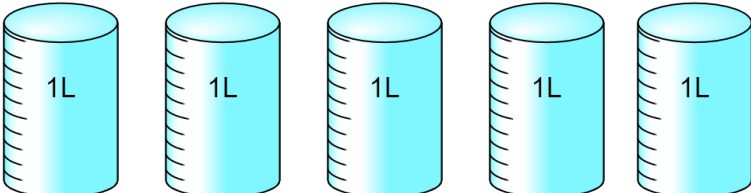
がつ

にち

なまえ

◆ つぎの水のかさはどれだけですか。

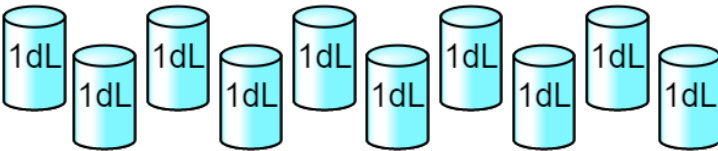
①  (7dL)

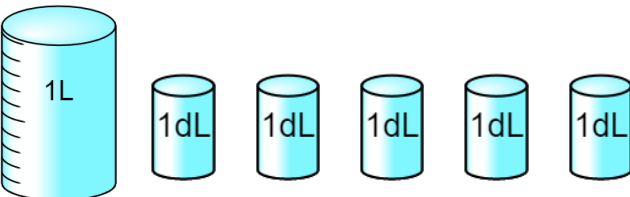
②  (5L)

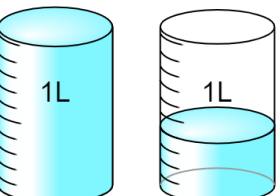
◆ つぎの水のかさを、それぞれ (ア) (イ) のあらわし方で書きます。

□にあてはまる数を書きましょう。

①  (ア) 1 L
(イ) 10 dL

②  (ア) 1 L
(イ) 10 dL

③  (ア) 1 L 5 dL
(イ) 15 dL

④  (ア) 1 L 4 dL
(イ) 14 dL