

小学2年生

水のかさのたんい(2)

ひにち

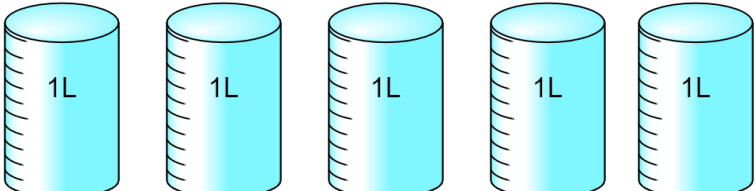
がつ

にち

なまえ

◆ つぎの水のかさはどれだけですか。

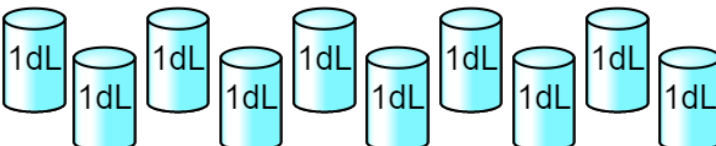
①  ()

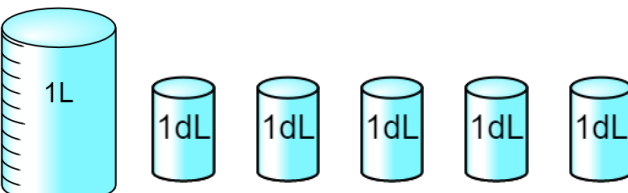
②  ()

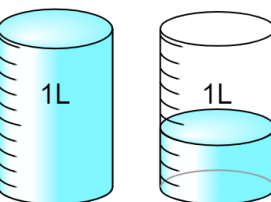
◆ つぎの水のかさを、それぞれ (ア) (イ) のあらわし方で書きます。

□にあてはまる数を書きましょう。

①  (ア) L
 (イ) dL

②  (ア) L
 (イ) dL

③  (ア) L dL
 (イ) dL

④  (ア) L dL
 (イ) dL