

# 小学6年生 角柱と円柱の体積(4)

日にち

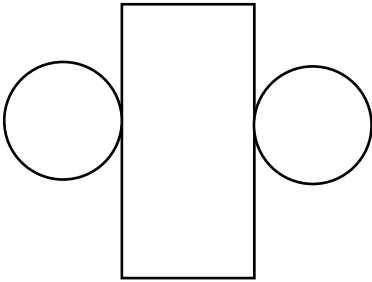
月

日

名前

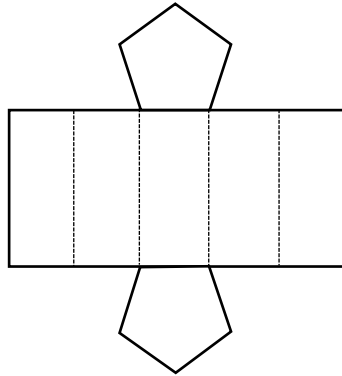
◆下の図の展開図を見て、立体の名前を答えましょう。

(1)



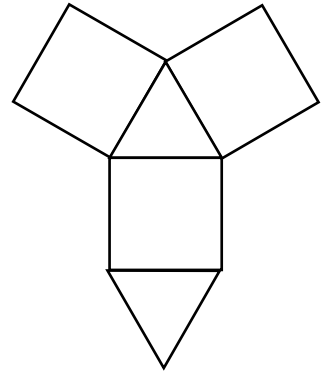
( 円柱 )

(2)



( (正)五角柱 )

(3)



( (正)三角柱 )

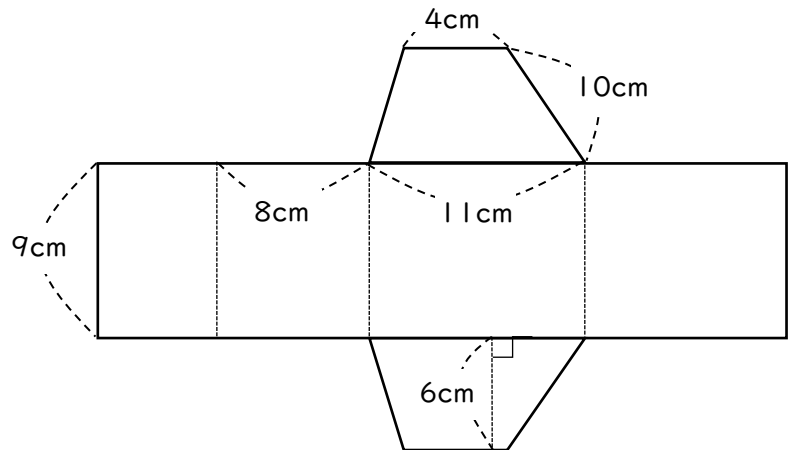
◆右の図はある立体の展開図です。

(1) 表面積を求めましょう。

( 387 cm<sup>2</sup> )

(2) 体積を求めましょう。

( 405 cm<sup>3</sup> )



◆右の図は、ある立体の展開図です。

(1) 側面積を求めましょう。

( 301.44 cm<sup>2</sup> )

(2) 表面積を求めましょう。

( 527.52 cm<sup>2</sup> )

(3) 体積を求めましょう。

( 904.32 cm<sup>3</sup> )

