

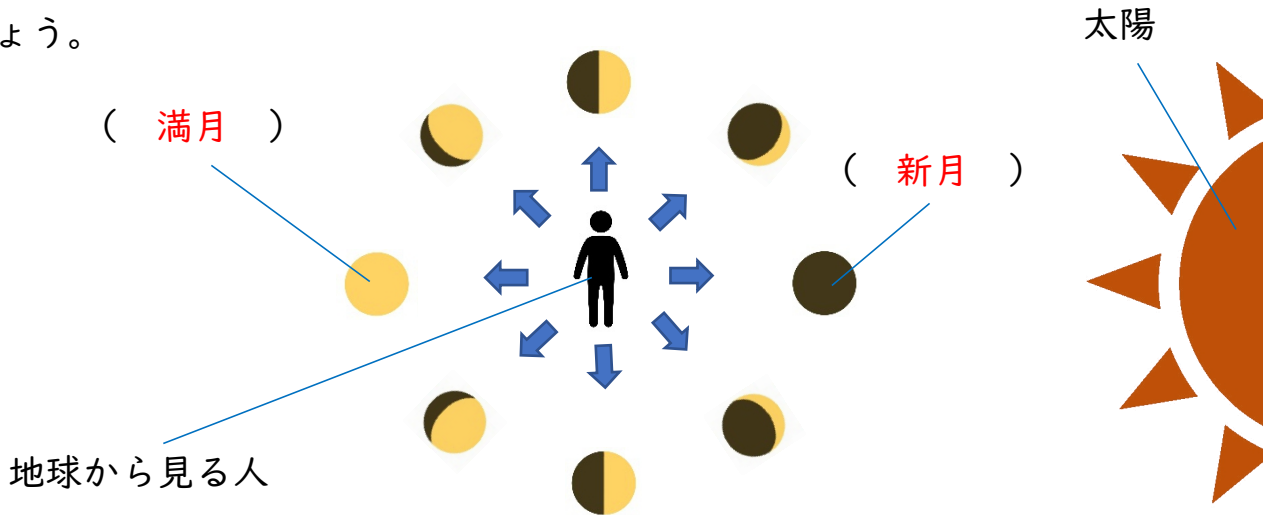
ひにち

がつ

にち

なまえ

- ① 太陽と月の位置関係について、（ ）にあてはまることばを書きましょう。



図は、地球からみた月の形をあらわしたものである。

地球から見える月の形が日々変わって見えるのは、（太陽）と月の位置関係によるものである。月が光って見える部分には（太陽の光）が当たっていて、太陽と同じ側にあつて地球からは見えない月を（新月）といい、太陽の反対側にある月を（満月）という。月の見え方は約（1か月）でもとの形にもどる。


- ② 次の写真の月の名前を書きましょう。




（満月）



（半月）



（三日月）



（新月）