

小3算数

正三角形と二等辺三角形(1)

ひにち

がつ

にち

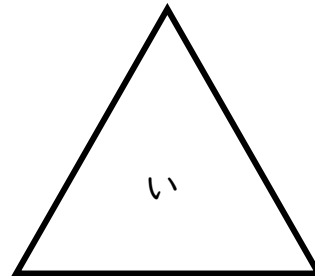
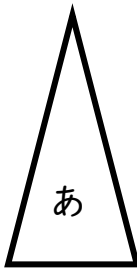
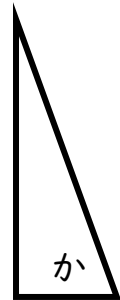
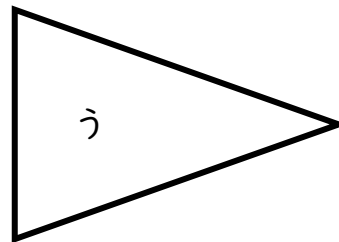
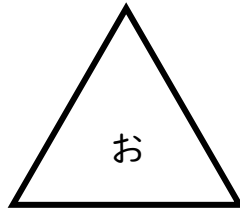
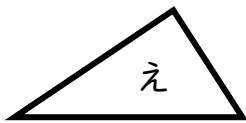
なまえ

◆ () にあてはまる言葉を書きましょう。

(1) 3つの辺が同じ長さの三角形を () という。

(2) 2つの辺が同じ長さの三角形を () という。

◆ 次の三角形から正三角形と二等辺三角形を見つけましょう。



正三角形 ()

二等辺三角形 ()

◆ コンパスとものさしを使って 次の二等辺三角形を書きましょう。

3 cm、5 cm、5 cmの三角形