





日本の交通・産業

名前

月 日

1

次の写真を見て問いに答えましょう

①	②
	
③	④
	

問1 ①は都市と都市を結ぶため、自動車専用道路としてつくられました。これを何といいますか。

問2 ②は貨物船です。船のすぐれているところを書きましょう。

問3 船の交通機関としての欠点を書きましょう。

問4 ③は空港のようすです。飛行機のすぐれているところを書きましょう。

問5 飛行機の交通機関としての欠点を2つ書きましょう。

問6 ④は各地をつなぐ高速鉄道です。これを何というか書きましょう。

問7 下の写真は中国地方と四国地方を結ぶ橋の一つで、岡山県倉敷市と香川県坂出市を結んでいます。この橋の名前を書きましょう。



問8 本州と北海道を結ぶ海底トンネルの名前を書きましょう。

次の文章を読んで、問に答えましょう

私たちが住んでいる地いきにはいろいろな産業があります。産業とは人が生きていくためにする仕事のことです。産業には、米や野菜、くだものなどをつくる(1)や魚や貝をとる(2)、テレビや自動車などの機械や缶詰などの食品を作る(3)、木を育て木材を作る(4)、ものの売り買いをする(5)などがあります。

これらの産業は地いきの土地の形や川、海などの地形や気温・雨などの(6)のえいきょうを受けます。

問1 上の文章()にあてはまることばをいれましょう。

1		2		3	
4		5		6	

問2 農業や漁業、工業がさかんなちいきにあてはまるものを次から選びましょう。

- ① 日当たりが良い山のしゃ面
- ② 岩場や島などがある海辺
- ③ うめ立て地など、平らな土地が多い海辺
- ④ 川が流れる広い平野
- ⑤ 沖にだん流とかん流がぶつかる場所(潮目:しおめ)がある
- ⑥ 高速道路や空港、港などがあり交通の便が良い場所

農業	
漁業	
工業	