

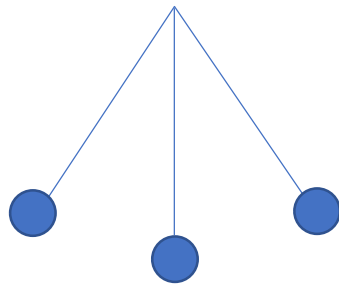
ひにち

がつ

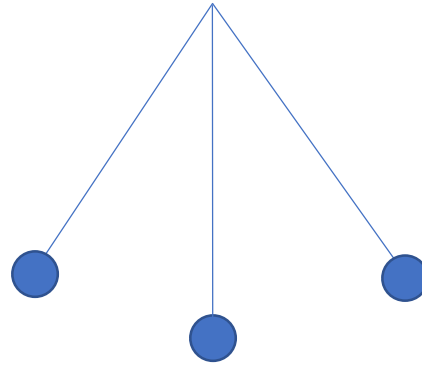
にち

なまえ

① ふりこについて、( ) にあてはまることばを書きましょう。

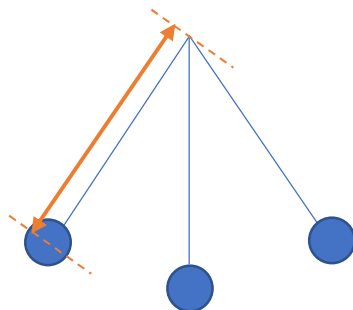


短いふりこ



長いふりこ

同じ重さ、ふれはばのふりこの長さをかえると、1往復する時間はふりこの長さが長いほど ( 長く ) なる。



ふりこの長さは、支点からおもりの ( 中心 ) までの長さである。

② 次の表を見て、( ) にあてはまるものをえらびましょう。

	おもりの重さ	ふりこの長さ	ふりこの角度
あ	20g	30cm	45°
い	20g	50cm	45°
う	50g	30cm	60°

あ～うの中で、1往復する時間がもっとも長いのは ( い ) であり、( あ ) と ( う ) は1往復する時間が同じである。