

小数の表し方

ひにち

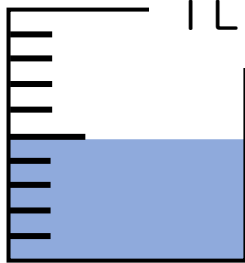
がつ

にち

なまえ

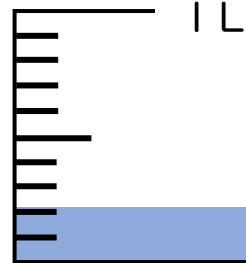
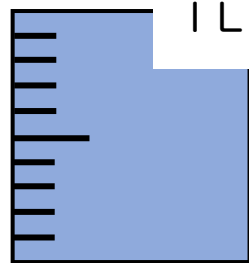
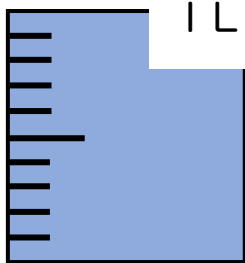
◆ 次のかさを 小数であらわしましょう。

(1)



() L

(2)



() L

◆ 次の () にあてはまる数を書きましょう。

(1) 350m = ()km

(2) 60m = ()km

(3) 4cm = ()m

(4) 86cm = ()m

(5) 1500mL = ()L

(6) 64mL = ()L

(7) 3kg500g = ()kg

(8) 8kg204g = ()kg

(9) 7cm2mm = ()cm

(10) 2546mL = ()L