

分数の表し方

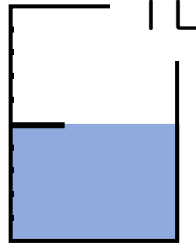
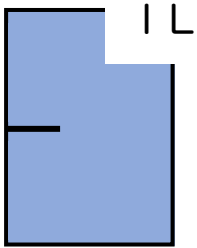
ひにち

がつ

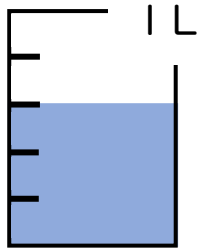
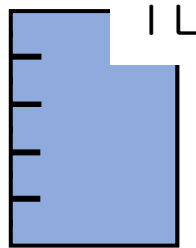
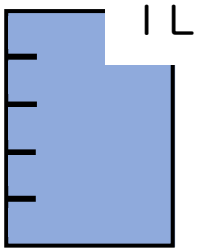
にち

なまえ

◆ 水のかさをそれぞれ答えましょう。



仮分数 ($\frac{3}{2}$) L
 帯分数 ($1\frac{1}{2}$) L



仮分数 ($\frac{13}{5}$) L
 帯分数 ($2\frac{3}{5}$) L

◆ 真分数・仮分数・帯分数を選んで答えましょう。

真分数 (③ ⑦)

仮分数 (② ④ ⑥)

帯分数 (① ⑤)

① $1\frac{3}{4}$ ② $\frac{6}{5}$ ③ $\frac{7}{8}$ ④ $\frac{10}{3}$ ⑤ $3\frac{2}{7}$ ⑥ $\frac{17}{9}$ ⑦ $\frac{4}{5}$

◆ 次の帯分数、仮分数にしましょう。

(1) $2\frac{1}{2}$ ($\frac{5}{2}$) (2) $1\frac{5}{6}$ ($\frac{11}{6}$) (3) $4\frac{5}{8}$ ($\frac{37}{8}$)

◆ 次の仮分数を帯分数、もしくは整数にしましょう。

(1) $\frac{10}{3}$ ($3\frac{1}{3}$) (2) $\frac{50}{25}$ (2) (3) $\frac{25}{7}$ ($3\frac{4}{7}$)