

# 分数の表し方

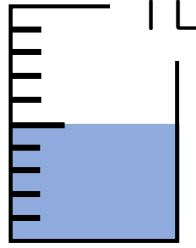
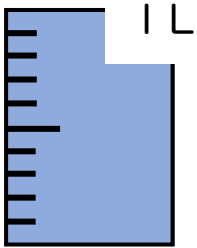
ひにち

がつ

にち

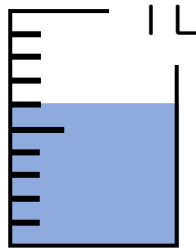
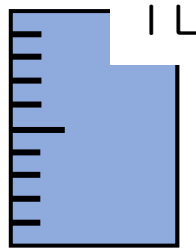
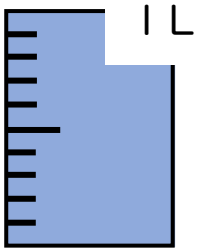
なまえ

◆ 水のかさをそれぞれ答えましょう。



仮分数 (            ) L

帯分数 (            ) L



仮分数 (            ) L

帯分数 (            ) L

◆ 真分数・仮分数・帯分数を選んで答えましょう。

真分数 (            )

仮分数 (            )

帯分数 (            )

- ①  $1\frac{3}{4}$     ②  $\frac{6}{5}$     ③  $\frac{7}{8}$     ④  $\frac{10}{3}$     ⑤  $3\frac{2}{7}$     ⑥  $\frac{17}{9}$     ⑦  $\frac{4}{5}$

◆ 次の帯分数、仮分数にしましょう。

- (1)  $2\frac{1}{2}$  (            )    (2)  $1\frac{5}{6}$  (            )    (3)  $4\frac{5}{8}$  (            )

◆ 次の仮分数を帯分数、もしくは整数にしましょう。

- (1)  $\frac{10}{3}$  (            )    (2)  $\frac{50}{25}$  (            )    (3)  $\frac{25}{7}$  (            )