

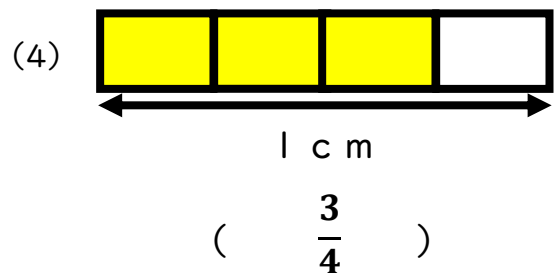
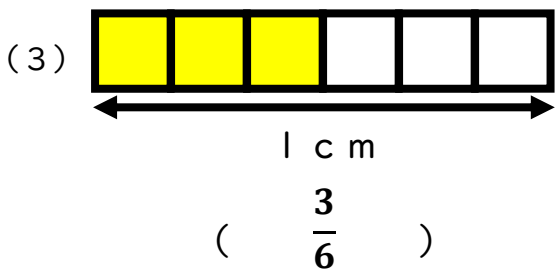
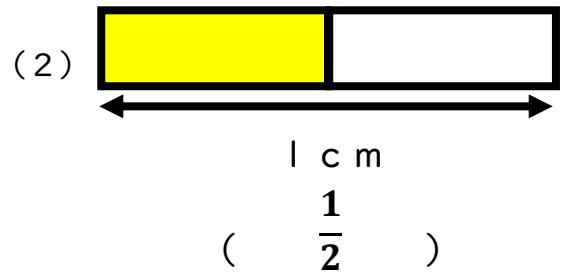
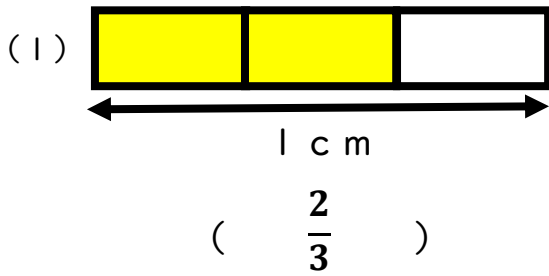
ひにち

がつ

にち

なまえ

◆ ^{いろ}色がぬられているところの長さ ^{なが}を ^{ぶんすう}分数でかきましょう。



◆ つぎの ^{なが}長さにぬりましょう。

(1) $\frac{2}{4}$



(2) $\frac{5}{6}$



◆ もとの大きさの 何分の一でしょう。

