

日にち


月

日

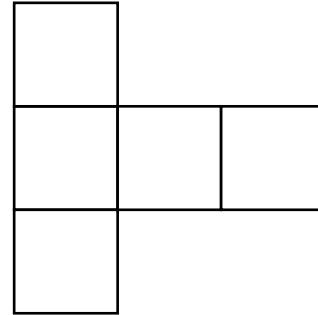
名前

◆下の形は、はこの形をつくっているとちゅうの形です。はこの形ができるように、
たりない面を1つ書きこみましょう。

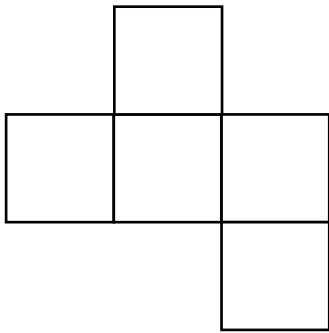
(1)



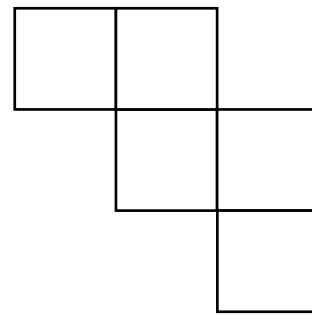
(2)



(3)



(4)



◆下のはこは、辺のながさがすべて5cmです。このはこをつくるための6つの面をつか
った図を、下のマス目にかきましょう。ただし、1マスを1cmとします。

