

小4算数 てん開・見取図(4)


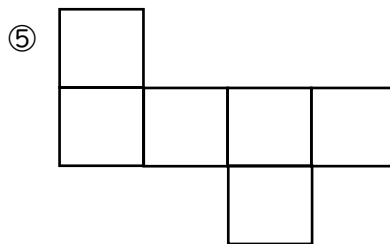
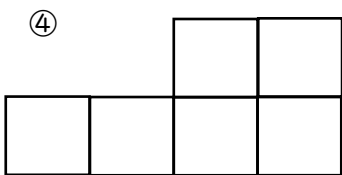
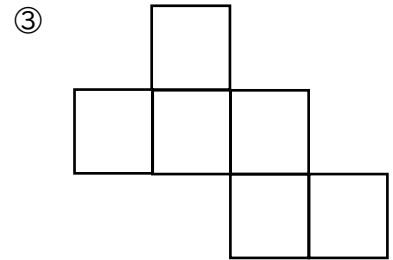
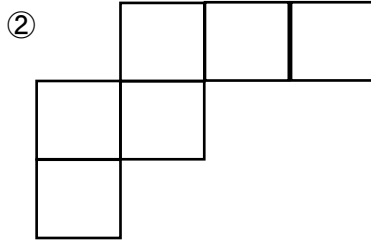
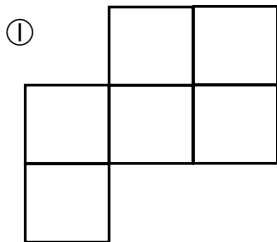
ひにち

がつ

にち

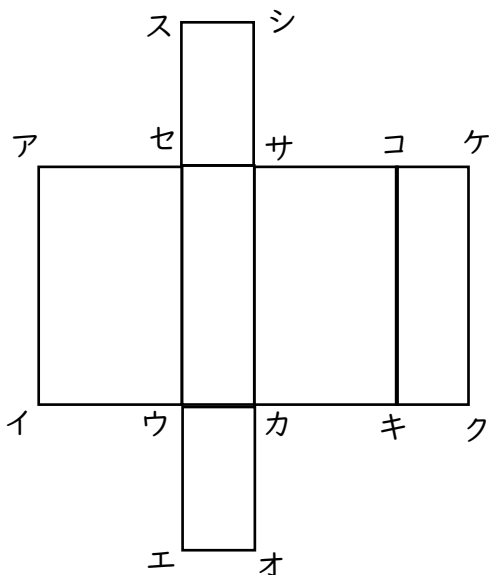
なまえ

◆ 次のてん開図のうち立体にならないものはどれでしょう。



答え (① ② ④)

◆ 直方体のてん開図について次の問いに答えましょう。



(1) 点アと重なる点はどれですか。2つすべて

答えましょう。

(点ス 点ケ)

(2) 点キと重なる点はどれですか。

(点オ)

(3) 点クと重なる点はどれですか。2つすべて

答えましょう。

(点イ 点エ)

(4) 辺ウエと重なる辺はどれですか。

(辺イウ)

(5) 辺コサと重なる辺はどれですか。

(辺サシ)