

たすのかな？

ひくのかな？

ひにち

がつ

にち

なまえ

- ① とおるさんたちは 3人であそんでました。
そこへ ともだちが2人きました。
みんなでなん人になりましたか。




(しき)

=

(こたえ)

人

- ② くるまが ちゅうしゃじょうに 7だいならんでいます。
3だい でていきました。
くるまは なんだいになりましたか。




(しき)

=

(こたえ)

だい

- ③ すずめが でんせんに13わとまっていたいました。
そのうち 6わとんでいきました。
のこりは なんわになりましたか。



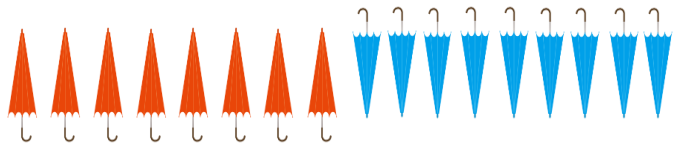
(しき)

=

(こたえ)

わ

- ④ あかいかさが 8本あります。
あおいかが 9本あります。
かさは ぜんぶでなん本ですか。



(しき)

=

(こたえ)

人